

GLASBENA ŠOLA RAVNE NA KOROŠKEM


NAUK O GLASBI - 4. RAZRED

DATUM: _____




PREVERJANJE ZNANJA


1. Napiši h-mol harmonično lestvico in jo označi (predznaki, razdalje med toni, stopnje, imena stopenj ter tetrakorda).



2. Napiši intervale.



3. Reši kvintakorda.



4. V melodični vaji poišči ritmični posebnosti ter ju obkroži in poimenuj.



5. V melodični vaji obkroži kvarte in kvinte ter jih določi (č4, zv4, č5, zm5). Ne spreglej, da je vaja napisana v G-duru, torej upoštevaj višaj fis.

