

# GLASBENA ŠOLA RAVNE NA KOROŠKEM


## NAUK O GLASBI - 6. RAZRED

DATUM: \_\_\_\_\_

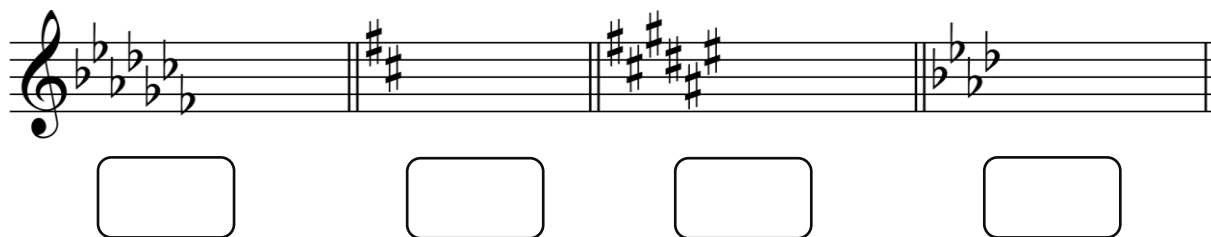


### PREVERJANJE ZNANJA

1. V H-duru napiši kromatično lestvico navzgor.




2. Zapiši ime molove lestvice glede na predznake.



3. Napiši intervala.



4. Napiši akorde.



zv5/3      m6      d6/4      D7      D6/5      D4/3      D2

5. Sonatni stavek je zgrajen iz treh delov. Poimenuj jih in napiši, v kakšnem zaporedju si sledijo?

